

Question sheet

Name:	_____
ID number:	_____
Study code:	_____
Signature:	_____

How do I mark correctly?

This answer form will be scanned automatically. Please do not fold or spot. Use a black or blue pen to mark the fields. If you want to correct a marking, completely fill the box with color. This field will be interpreted like an empty box.

1) Орон зайн зохиомж нь ямар чадваруудыг хөгжүүлэх хүчин зүйл болдог вэ?

- a) Бүтээлч сэтгэлгээ
- b) Ландшафт дизайн
- c) Нүүрний зохиомж
- d) Орон зайн мэдрэмж

(2 correct answers, 2.00 points)

2) Мэргэжлийн Ландшафт Дизайнеруудын Холбоо хэдэн онд байгуулагдсан бэ?

- a) 1989 он
- b) 1988 он
- c) 1990 он

(1 correct answer, 1.00 point)

3)

Амины орон сууцны гадна талын орон зайн тохижилт, амрах талбайн төлөвлөлтөнд аль аль нь орох вэ?

- a) Явган хүний гарц замын гэрэлтүүлэг
- b) Ногоон байгууламж
- c) Амины орон сууц
- d) Хүүхдийн тоглоомын хэсэг
- e) Амрах талбайн хэсэг

(4 correct answers, 2.00 points)

4) Дараах зургуудийн аль нь ландшафт дизайны шийдэл вэ?

a)



b)



c)



(1 correct answer, 1.00 point)

5) Механик дамжуулгыг хэрхэн ангилдаг вэ?

- a) Хөтлөгч ба Хөтлөгдөгч
- b) Буцах ба Давших
- c) Өнхрөх ба Давших
- d) Үрэлтийн ба Харьцалтын

(1 correct answer, 1.00 point)

6)

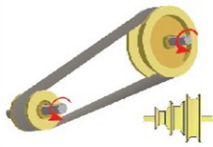
Ландшафт дизайн нь болон цэцэрлэгийн дизайны дундах ойлголт гэж хэлж болно.

- a) Ландшафт архитектур
- b) Ландшафт соёл

(1 correct answer, 1.00 point)

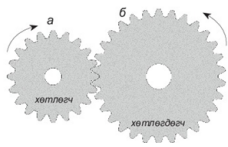
7) Доорх хувилбаруудын аль нь оосорт дамжуулга вэ?

a)



б.

b)



а.

(1 correct answer, 1.00 point)

8) Ямар зохиомж нь бүтэцийн ойлголт, бүтээлч сэтгэлгээ мэргэжлийн ур чадварыг хөгжүүлэх хүчин зүйл болдог вэ?

- a) Орон зайн зохиомж
- b) Давтамжтай зохиомж
- c) Тэгш бус зохиомж
- d) Тэгш хэмтэй зохиомж

(1 correct answer, 1.00 point)

9) Шүдэт дамжуулгын механизм нь ямар 2 хэсгээс бүрддэг вэ?

- a) Хөтлөгдөгч
- b) Харьцалттай
- c) Оосорт
- d) Хөтлөгч

(2 correct answers, 2.00 points)

10) Машин ба түүний мөчүүдийн хооронд эргэх буюу давших хөдөлгөөнийг дамжуулахад хэрэглэдэг янз бүрийн механик хэрэгслүүдийг гэнэ.

- a) Цахилгаан
- b) Деталь
- c) Дамжуулга
- d) Эд анги

(1 correct answer, 1.00 point)

11) Эртний бретоны "урт чулуу" гэсэн утгатай үгнээс гаралтай босоогоор байгуулсан том хэмжээтэй чулуун дурсгалыг юу гэж нэрлэдэг вэ?

- a) Долмен
- b) Кромлех
- c) Менхир

(1 correct answer, 1.00 point)

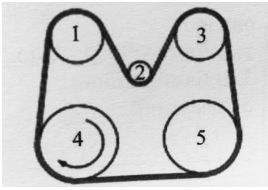
12)

Орон зайн зохиомжийн үндсэн 2 ойлголт аль нь вэ?

- a) Орон зайт эзлэхүүнт объектуудыг зохиомжлох
- b) Гадаргууг хувиргах
- c) Хавтгай объектуудыг зохиомжлох
- d) Орон зайт эзлэхүүнт бус объектуудыг зохиомжлох

(2 correct answers, 2.00 points)

13)

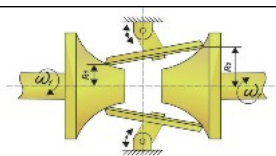


Зурагт үзүүлсэн дамжуулгын 4-р дамруу сумны заасан чигт эргэхэд аль аль дамрууд адил чигт эргэх вэ?

- a) 1,2,3-р дамрууд
- b) 1,2,5-р дамрууд
- c) Бүгд адил
- d) 1,3,5-р дамрууд

(1 correct answer, 2.00 points)

14)



Дээрх зурагт үзүүлсэн үрэлтэд дамжуулгын $R_1=30$, $R_2=50$, $W_1=120$ эрг/мин байсан бол W_2 - ыг ол.

- a) 74 эрг/мин
- b) 70 эрг/мин
- c) 72 эрг/мин

(1 correct answer, 4.00 points)