

1) Механик дамжуулгыг хэрхэн ангилдаг вэ?

- a) Хөтлөгч ба Хөтлөгдөгч (0%)
- b) Өнхрөх ба Давших (0%)
- c) Үрэлтийн ба Харьцалтын (100%)**
- d) Буцах ба Давших (0%)

(1 correct answer, 1.00 point)

2) Ямар зохиомж нь бүтэцийн ойлголт, бүтээлч сэтгэлгээ мэргэжлийн ур чадварыг хөгжүүлэх хүчин зүйл болдог вэ?

- a) Орон зайн зохиомж (100%)**
- b) Тэгш хэмтэй зохиомж (0%)
- c) Давтамжтай зохиомж (0%)
- d) Тэгш бус зохиомж (0%)

(1 correct answer, 1.00 point)

3)

Ландшафт дизайн нь болон цэцэрлэгийн дизайны дундах ойлголт гэж хэлж болно.

- a) Ландшафт соёл (0%)
- b) Ландшафт архитектур (100%)**

(1 correct answer, 1.00 point)

4) Машин ба түүний мөчүүдийн хооронд эргэх буюу давших хөдөлгөөнийг дамжуулахад хэрэглэдэг янз бүрийн механик хэрэгслүүдийг гэнэ.

- a) Деталь (0%)
- b) Эд анги (0%)
- c) Дамжуулга (100%)**
- d) Цахилгаан (0%)

(1 correct answer, 1.00 point)

5) Орон зайн зохиомж нь ямар чадваруудыг хөгжүүлэх хүчин зүйл болдог вэ?

- a) Нүүрний зохиомж (0%)
- b) Бүтээлч сэтгэлгээ (50%)**
- c) Орон зайн мэдрэмж (50%)**
- d) Ландшафт дизайн (0%)

(2 correct answers, 2.00 points)

6) Шүдэт дамжуулгын механизм нь ямар 2 хэсгээс бүрддэг вэ?

- a) Харьцалттай (0%)
- b) Хөтлөгч (50%)**
- c) Хөтлөгдөгч (50%)**
- d) Оосорт (0%)

(2 correct answers, 2.00 points)

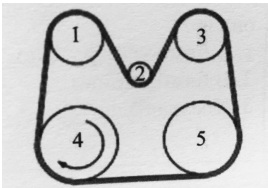
7)

Орон зайн зохиомжийн үндсэн 2 ойлголт аль нь вэ?

- a) Орон зайт эзлэхүүнт бус объектуудыг зохиомжлох (0%)
- b) Хавтгай объектуудыг зохиомжлох (0%)
- c) Гадаргууг хувиргах (50%)**
- d) Орон зайт эзлэхүүнт объектуудыг зохиомжлох (50%)**

(2 correct answers, 2.00 points)

8)



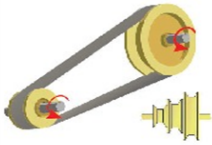
Зурагт үзүүлсэн дамжуулгын 4-р дамар сумны заасан чигт эргэхэд аль аль дамрууд адил чигт эргэх вэ?

- a) 1,2,3-р дамрууд (0%)
- b) 1,3,5-р дамрууд (100%)**
- c) Блүгд адил (0%)
- d) 1,2,5-р дамрууд (0%)

(1 correct answer, 2.00 points)

9) Доорх хувилбаруудын аль нь оосорт дамжуулга вэ?

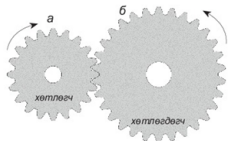
a)



б.

(100%)

b)



а.

(0%)

(1 correct answer, 1.00 point)

10) Эртний бретоны "урт чулуу" гэсэн утгатай үгнээс гаралтай босоогоор байгуулсан том хэмжээтэй чулуун дурсгалыг юу гэж нэрлэдэг вэ?

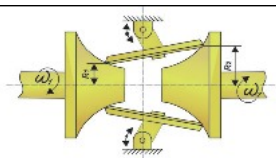
a) Кромлех (0%)

b) Долмен (0%)

c) **Менхир (100%)**

(1 correct answer, 1.00 point)

11)



Дээрх зурагт үзүүлсэн үрэлтэд дамжуулгын $R_1=30$, $R_2=50$, $W_1=120$ эрг/мин байсан бол W_2 - ыг ол.

a) 70 эрг/мин

(0%)

b) 74 эрг/мин (0%)

c) **72 эрг/мин**

(100%)

(1 correct answer, 4.00 points)

12)

Амины орон сууцны гадна талын орон зайн тохижолт, амрах талбайн төлөвлөлтөнд аль аль нь орох вэ?

- a) Хүүхдийн тоглоомын хэсэг (25%)
- b) Ногоон байгууламж (25%)
- c) Явган хүний гарц замын гэрэлтүүлэг (25%)
- d) Амины орон сууц (0%)
- e) Амрах талбайн хэсэг (25%)

(4 correct answers, 2.00 points)

13) Мэргэжлийн Ландшафт Дизайнеруудын Холбоо хэдэн онд байгуулагдсан бэ?

- a) 1989 он (100%)
- b) 1988 он (0%)
- c) 1990 он (0%)

(1 correct answer, 1.00 point)

14) Дараах зургуудийн аль нь ландшафт дизайны шийдэл вэ?

a)



(0%)

b)



(0%)

c)



(100%)

(1 correct answer, 1.00 point)